



ダスラー全店連日あさ10時開店!!


ご家族で  
楽しんだ後は、  
ダスラーで!



# 答えチャレンジ15問

1

四つ折りにした折り紙を、そのまま赤い部分で切り取って開くとどの形になるでしょう。



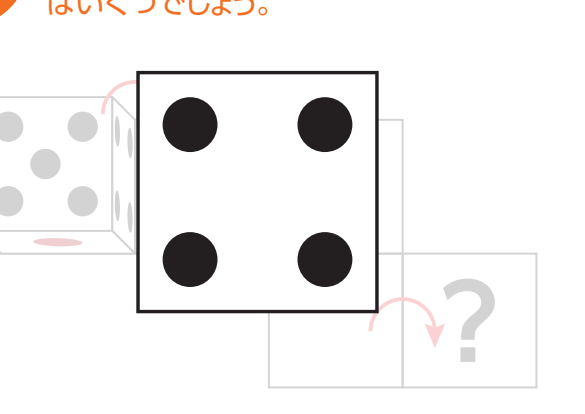
2

下記のように線と三角が描かれた透明な板を矢印の方向に半分に折って重ねると、どのように見えるでしょう。



3

下記のようにサイコロをマスに沿って順に転がしていきます。?の位置で上にくる目はいくつでしょう。



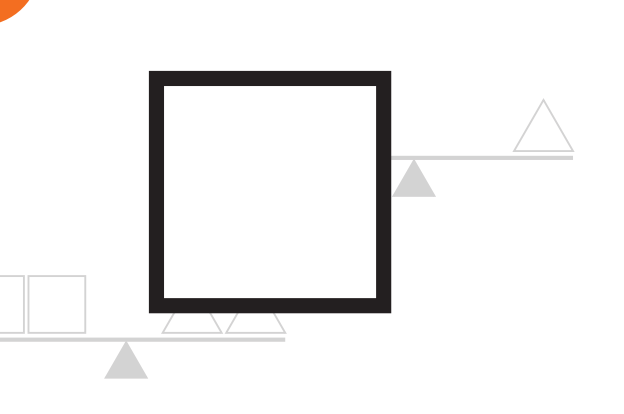
4

下記左のようなヒモを点線で切ると、どんな長さのヒモが何本できるでしょう。



5

下記の関係から、ひとつの重さが一番重い図形はどれでしょう。



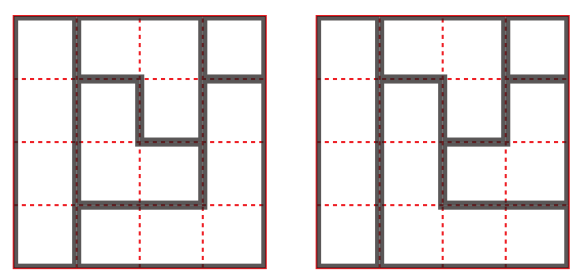
6

鏡に映った下記の時計の時刻は、何時何分でしょう。



7


下記左のバラバラになったピースをすき間なく並べて赤ワクの四角形を作ってください。答えは何パターンかあります。



※並べ方は他にもあります。

8

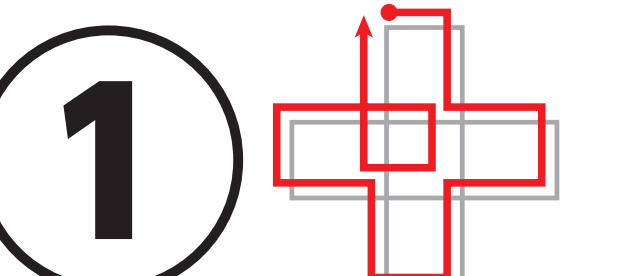
下記の中から「ひと筆書き」ができるものはどれでしょう。ひとつ選んでください。



※別のルートもあります。

9

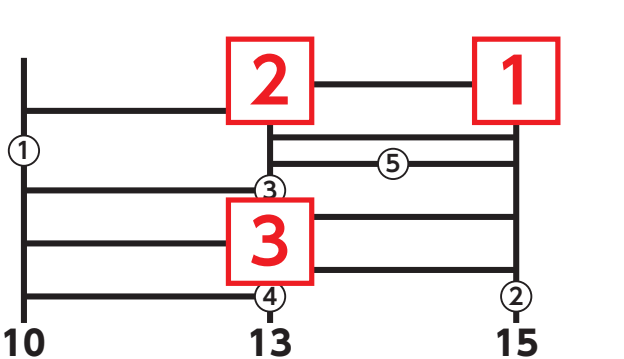
下記の中から「ひと筆書き」ができるものはどれでしょう。ひとつ選んでください。



※別のルートもあります。

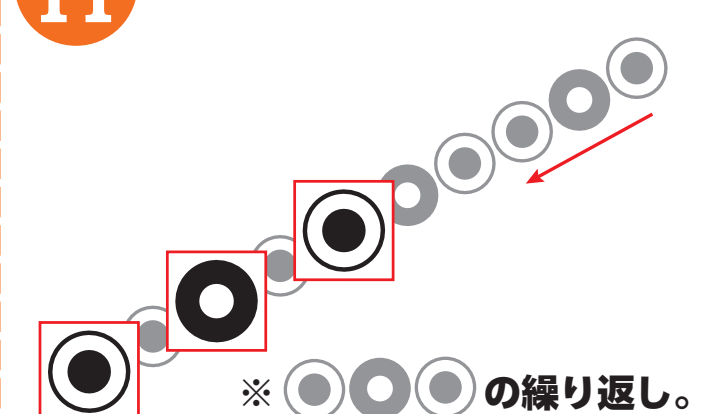
10

「あみだくじ」で、たしていくと一番下の数字になるよう□の中を埋めてください。



11


並んでいる図柄の規則を見つけ、空いている□部分を埋めてください。



※の繰り返し。

12

立方体が作れるのは、どの展開図でしょう。



13

右に示したものと同じ立方体が作れるのは、どの展開図でしょう。



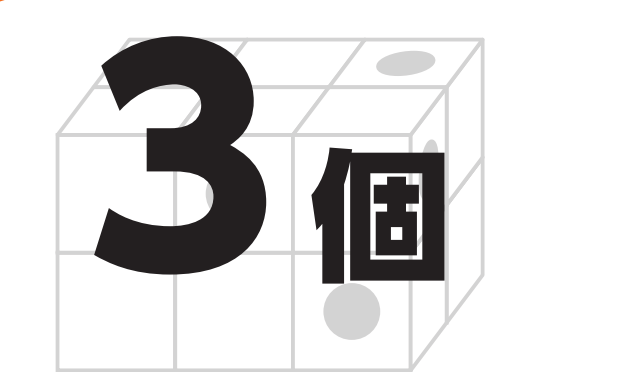
14

下記の図を鏡に映すと、どのように映るでしょう。



15

積み木を突き抜ける様に●の位置から棒を刺し穴を開けます。穴の開かない積み木はいくつでしょう。



50歳ばちんこ 1.25円ばちんこ 2.5円ばちんこ 4円ばちんこ 6.25円すろっと 20円すろっと

NEW  
10年目の挑戦

デーダス1137

50歳ばちんこ 1.25円ばちんこ 2円ばちんこ 4円ばちんこ 8円すろっと 20円すろっと

NEW  
おかげさまで  
生誕12周年

スーダスラー

50歳ばちんこ 1円ばちんこ 4円ばちんこ 5円すろっと 10円すろっと 20円すろっと

NEW  
おかげさまで  
生誕12周年

DEL  
DASULLAR  
22214  
津幡

50歳ばちんこ 1円ばちんこ 2円ばちんこ 4円ばちんこ 20円すろっと

NEW  
おかげさまで  
生誕16周年

津幡店  
DASULLAR