

15分でわかる!?

これなん度なん?

15問の隠された角度、ぜんぶわかるかな?



ダス爺

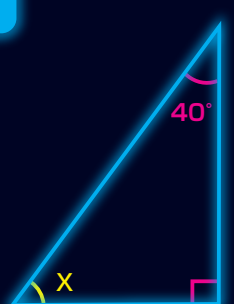
答えは各店頭にて発表ぢゃ!!

わかった人も、わからなかった人も、ダスラー各店へ!!


おかげさまで30周年

ダスラー全店 連日朝10時OPEN!!


1 角Xは何度?




2 下の図は平行四辺形です。角Xの角度を求めなさい。



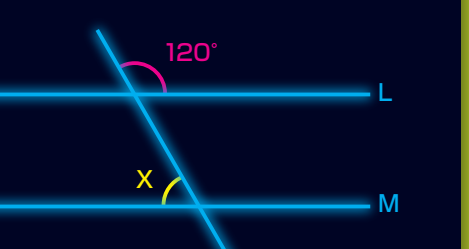
3 下の図は正六角形です。角Xは何度?



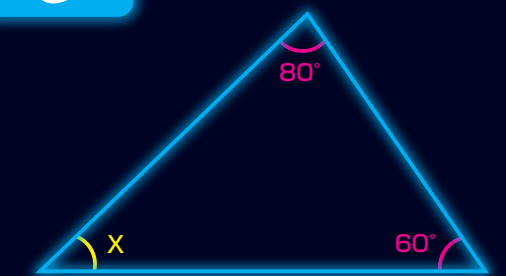
4 下の図は正三角形です。角Xは何度?



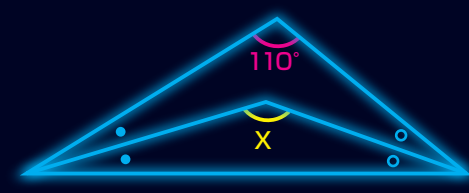
5 直線L、Mは平行です。角Xの角度は何度?



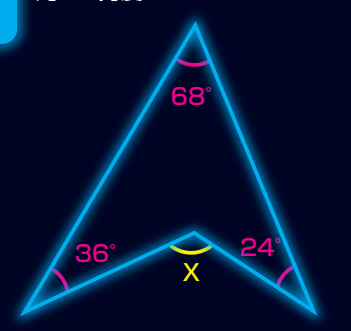
6 角Xは何度?



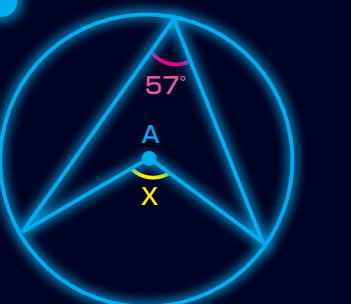
7 角Xは何度? 同じ印の付いた角の大きさは等しいものとします。



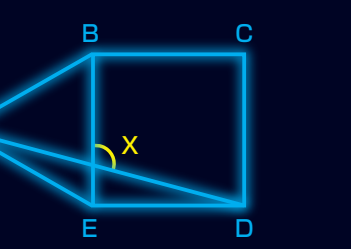
8 角Xは何度?



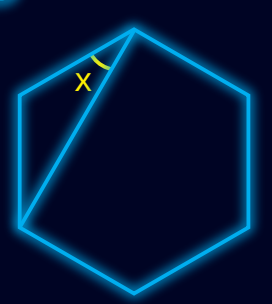
9 点Aは円の中心です。角Xは何度?



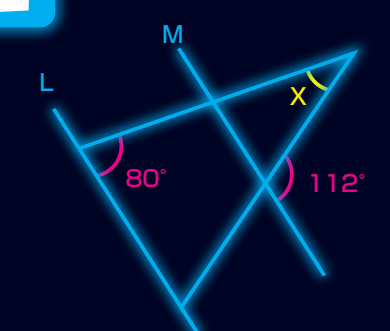
10 下の図の三角形ABEは正三角形で、四角形BCDEは正方形です。角Xの角度を求めなさい。



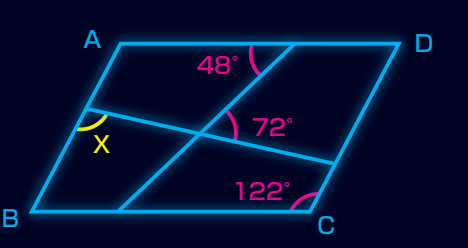
11 下の図は正六角形です。角Xは何度?



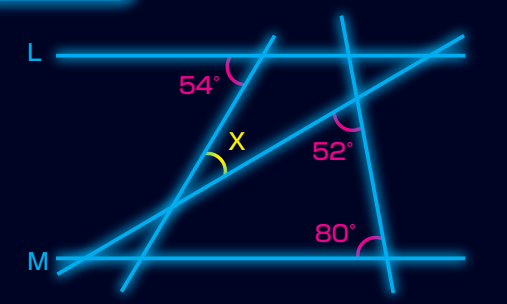
12 直線L、Mは平行です。角Xの角度は何度?




13 下の図の四角形ABCDは平行四辺形です。角Xの角度を求めなさい。



14 直線L、Mは平行です。角Xの角度は何度?



15 直線L、Mは平行です。角Xの角度は何度?



AKB48 138台導入 大好評稼働中!!

初めての方も安心してご遊技できます。 遊ぶ前にPUSH!!

17日ダスラー全店に マンション久保田さん来店

パチプロを本業としており、その腕前は、パチンコの収入でマンションを2軒購入したほどであることから、「マンション久保田」とも呼ばれている。

Clubism 北陸キャラ1グランプリ 優勝!!

北陸キャラ1グランプリとは? エントリーされた20キャラの中から北陸を代表するキャラクターのNo.1を決める総選挙。2ヶ月間の選挙期間を終え、たくさんの投票の結果「ダスラーくん」が堂々の1位を獲得いたしました!! 応援してくださった皆様、ありがとうございました。

10年目の挑戦

デューダス1137

金沢市福久町ホ30-1 ☎0120-80-1137

おかげさまで 生誕12周年

スーパースター

金沢市福久2丁目89番地 Tel(076)257-7788

おかげさまで 生誕12周年

DEL 22214 DASULLAR

河北郡津幡町字庄ホ-51 Tel(076)289-6660

おかげさまで 生誕16周年

津幡店 DASULLAR

河北郡津幡町字庄ホ-32 Tel(076)288-6777